

全国 2008 年 10 月自考试题管理系统中计算机应用

课程代码: 00051

一、单项选择题 (本大题共 30 小题, 每小题 1 分, 共 30 分)

在每小题列出的四个备选项中只有一个是符合题目要求的, 请将其代码填写在题后的括号内。错选、多选或未选均无分。

1. ERP 的含义是 (C) 1-29
A. 计算机辅助设计 B. 供应链管理
C. 企业资源计划 D. 业务流程重组
2. 以下关于反馈的说明中正确的是 (A) 1-7
A. 有反馈才有管理 B. 信息流不可反馈
C. 反馈是干扰信息 D. 物流是可反馈的
3. Visual FoxPro 提供的三种主要可视化操作界面是: 向导、生成器和 (B) 2-85
A. 菜单 B. 设计器
C. 对话框 D. 工具栏
4. 在微型计算机中存取速度最快的存储器是 (D) 2-44
A. RAM B. SAM
C. ROM D. Cache
5. 在共享介质式局域网中数据的传播方式是 (A) 2-55
A. 广播方式 B. 点对点方式
C. 单播方式 D. 多结点方式
6. 目前可以看作多媒体系统的设备是 (D) 2-48
A. 复印机 B. 传真机
C. 打印机 D. 手机
7. 广播电台要发送音乐节目的模拟信号 (D) 2-51
A. 可以直接传输 B. 需要解调
C. 需要调制解调 D. 需要调制
8. 主要在上下结点之间进行信息交换的计算机网络拓扑结构是 (B) 2-57
A. 环型 B. 树型

本档资源由考试真题软件网 (down.examebook.com) 搜集整理二次制作!

- C. 星型 D. 总线型
9. 系统维护困难且用于企业外部费用小的系统开发方式是 (B) 3-107
- A. 自行开发 B. 购买软件
C. 委托开发 D. 合作开发
10. 用“原型法”开发管理信息系统的顺序为 (B) 3-101
- A. 运行管理、开发原型、评价修改原型
B. 开发原型、评价修改原型、运行管理
C. 评价修改原型、运行管理、开发原型
D. 运行管理、评价修改原型、开发原型
11. 不属于信息系统战略规划方法的是 (C) 4-117
- A. 战略集合转移法 B. 关键成功要素法
C. 关键路径法 D. 企业系统规划法
12. 信息系统可行性分析报告获得批准后, 应当进行的工作是 (C) 5-125
- A. 制作底层数据流程图 B. 购置网络设备
C. 系统现状调查 D. 制作顶层数据流程图
13. 在 U/C 矩阵中, 功能与数据类交叉点上字母 C 的含义是 (A) 5-149
- A. 该类数据将在此功能中生成 B. 以该交叉点为界划分功能模块
C. 该功能需要使用该类数据 D. 该功能中有数据不一致现象
14. 数据流程图的基本元素包括 (C) 5-134
- A. 处理功能、数据存储、数据流、数据关联
B. 处理功能、数据实体、数据流入、数据流出
C. 数据流、数据存储、外部实体、处理功能
D. 数据存储、处理功能、外部实体、内部实体
15. 身份证编码是成组码, 其中第 7 到 14 位(出生日期)所采用的编码方式为 (A) 6-198
- A. 表意码 B. 专用码
C. 数字码 D. 顺序码
16. 1974 年由 W · Stevens 提出的信息系统设计的基本思想是 (C) 6-156
- A. 波动效应 B. 规范化

本档资源由考试真题软件网 (down.examebook.com) 搜集整理二次制作!

- C. 结构化设计 D. 结构分解
17. 某图形处理模块中包含：“线条处理”、“颜色处理”、“填充处理”、“文字处理”、“背景处理”，该模块属于 (A) 6-160
- A. 逻辑凝聚 B. 数据凝聚
C. 时间凝聚 D. 功能凝聚
18. 以下关于模块独立性的描述中，正确的是 (D) 6-160
- A. 模块的独立性越高系统越复杂 B. 系统可靠性与模块独立性无关
C. 逻辑凝聚模块的独立性最高 D. 模块独立性只是相对的
19. 图书馆每种图书都可以供不同的读者借阅，每个读者最多可以借阅 10 本书；“图书”和“读者”之间的关系是 (D) 6-191
- A. 一对多 B. 一对一
C. 多对一 D. 多对多
20. 信息系统设计阶段的直接启动条件是 (C) 6-154
- A. 系统分析报告制作完成 B. 系统可行性分析报告获得通过
C. 系统分析报告获得批准 D. 软件开发团队组建完毕
21. 快捷菜单区别于下拉菜单的不同点是 (B) 7-214
- A. 需要事先规划 B. 应当挂接
C. 只能有一个层次 D. 需要生成
22. 建立对话框界面除了使用表单对象以外，还可以使用 (C) 7-216
- A. 菜单 B. 函数
C. 工具栏 D. 报表
23. 数据库表中字符型字段的默认匹配类是 (B) 6-181
- A. 组合框 B. 文本框
C. 列表框 D. 编辑框
24. 使用人工校验输入数据的方法叫做 (A) 7-223
- A. 静态校验 B. 重复校验
C. 平衡校验 D. 存在校验
25. 系统平行切换方式的缺点是 (C) 8-287

本档资源由考试真题软件网 (down.examebook.com) 搜集整理二次制作!

A. 安全性差 B. 可靠性低

C. 费用较高 D. 风险较大

26. 面向对象程序设计的基本思想是 (C) 8-268

A. 封装性和可靠性 B. 可理解性和可扩展性

C. 封装性和可扩展性 D. 独立性和可视性

27. 在系统验收之前的测试步骤依次是 (D) 8-286

A. 系统测试、子系统测试、单元测试 B. 子系统测试、系统测试、单元测试

C. 单元测试、系统测试、子系统测试 D. 单元测试、子系统测试、系统测试

28. 在信息中心的组成中, 负责系统文档管理的部门是 (A) 9-298

A. 系统开发组 B. 系统维护组

C. 系统运行组 D. 数据库管理组

29. 在集中开发方式和分散开发方式中都必须集中管理的是 (D) 9-298

A. 开发人员 B. 设备与操作

C. 开发活动 D. 系统规划

30. 系统维护的最主要内容是 (B) 9-299

A. 系统软件维护 B. 应用软件维护

C. 数据维护 D. 硬件设备维护

二、名词解释题 (本大题共 5 小题, 每小题 3 分, 共 15 分)

31. 关系模型 2-79

答: 关系模型以人们经常使用的表格形式作为基本的存储结构, 通过相同关键字段来实现表格间的数据联系

32. 战略集合转移法 4-118

答: 战略集合转移法是把组织的总战略看成一个信息集合, 由使命、目标、战略和其他战略变量 (如管理水平、环境约束) 等组成, 信息系统战略性规划过程, 就是将企业的战略集转化为 MIS 的战略集的过程。

33. 顶层数据流程图 5-136

答: 把整个系统当做一个处理功能来看待, 画出最粗略的数据流程图; 然后逐层向下分析, 分解为详细的低层次的数据流程图。

本档资源由考试真题软件网 (down.examebook.com) 搜集整理二次制作!

34. 录入 7-221

答: 录入就是把源数据转变成计算机可以识别处理的信息, 并保存在外存储器中的过程。

35. 管理流程重组 8-251

答: 根据系统设计的要求, 重新规定系统业务流程、信息流向, 改革组织机构, 划定各管理部门的职责范围。

三、简答题 (本大题共 5 小题, 每小题 5 分, 共 25 分)

36. 简述系统重新组合技术的处理过程。9-305

答:

- (1) 当系统发生故障后, 为了使系统部分恢复或完全恢复, 自动将故障设备停用, 或用备件替换故障设备;
- (2) 恢复的系统上启用数据库的后备数据;
- (3) 根据数据处理过程记录, 将数据恢复到故障发生前的状态。

37. 简述模块凝聚的含义。6-160

答: 模块凝聚是用以衡量一个模块内部自身功能的内在联系是否紧密的指标, 也是衡量模块质量好坏的重要标准。模块按凝聚程度的高低可分为五级, 凝聚程度最低的是偶然凝聚, 凝聚程度最高的是功能凝聚。

38. 简述结构化语言及所使用的基本词汇。5-148

答:

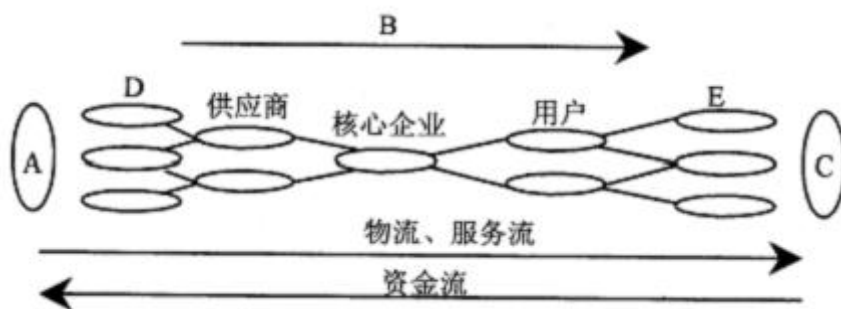
- 1、结构化语言: 在自然语言的基础上发展的一种规范化的语言表达方式。
- 2、基本词汇:
 - (1) 起始语句中明确的动词;
 - (2) 数据字典和数据流程图中的名词;
 - (3) 表示处理逻辑结构的保留字

39. 简述系统开发领导小组的职责。3-109

- 答: (1) 提出建立新系统的目标和总策略;
- (2) 指导项目小组工作
 - (3) 对开发工作进行监督与控制;
 - (4) 协调系统开发中有关的各项工作;
 - (5) 向上级组织报告系统开发工作的进展情况;
 - (6) 委任计算中心的主要工作人员, 规定他们的职责范围。

本文档资源由考试真题软件网 (down.examebook.com) 搜集整理二次制作!

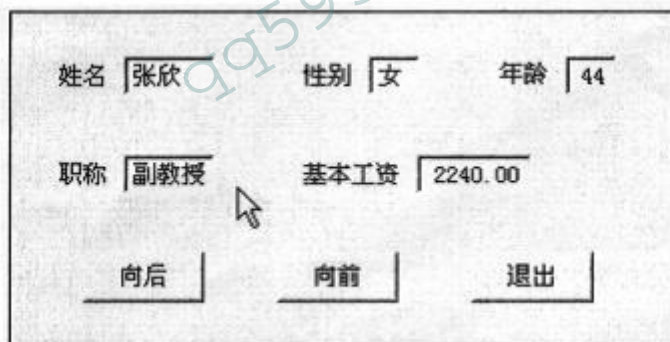
40. 以下是供应链模型示意图, 请填写出字母对应的内容名称。1-35



- A: 供应源
- B: 信息流
- C: 需求源
- D: 供应商的供应商
- E: 用户的用户

四、应用题 (本大题共 3 小题, 每小题 10 分, 共 30 分)

41. 有一个数据浏览界面如图所示。7-233



单击“向后”或“向前”按钮可以从前向后或从后向前浏览数据表中的数据, 如果“向后”按钮的方法程序如下:

```
IF! EOF()
SKIP
ELSE
GO TOP
ENDIF
THISFORM. REFRESH
```

本档资源由考试真题软件网 (down.examebook.com) 搜集整理二次制作!

自考备考三件套: 自考笔记、真题及答案、录音课件!

那么当浏览到最后一条记录时, 若再单击该按钮将会出现 (1) 现象。如果“向前”按钮的方法程序如下:

```
IF! BOF ( )
SKIP-1
ELSE
GO BOTTOM
ENDIF
THISFORM. REFRESH
```

那么, 当浏览到第一条记录时, 若再单击该按钮将会出现 (2) 现象。为了克服这种情况, 可将“向后”和“向前”按钮的方法程序分别修改为:

```
SKIP
IF EOF ( )
GO TOP
ENDIF
THISFORM. REFRESH
```

和

```
SKIP-1
IF BOF ( )
GO BOTTOM
ENDIF
THISFORM. REFRESH
```

但是如果数据表是空的, 单击“向后”按钮将会提示 (3) ; 单击“向前”按钮将提示 (4) 。为了避免出现这样的提示可以增加一个判断语句。例如“向前”按钮的方法程序可以改为:

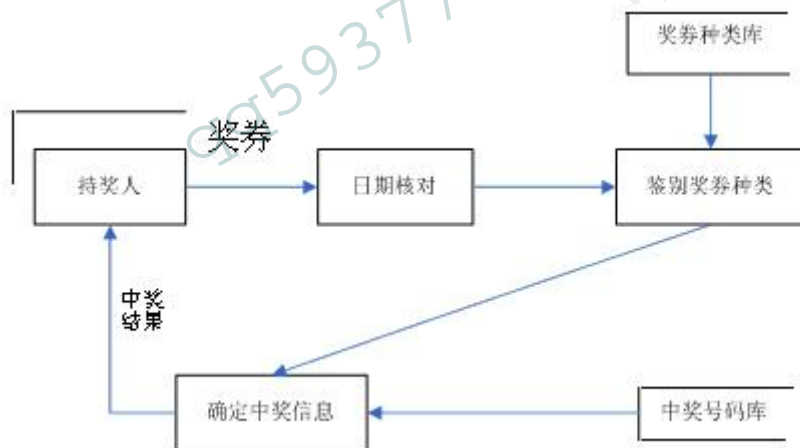
```
IF (5) =0
SKIP
IF EOF ( )
GO TOP
```

```
ENDIF
THISFORM. REFRESH
ENDIF
```

请补充完善程序及说明, 填写在下面标号后。

- (1) 空记录显示
- (2) 首记录不变动
- (3) 已到文件尾
- (4) 已到文件头
- (5) RECCOUNT()

42. 奖券兑奖过程是: 接收持券人的奖券, 首先核对日期, 再根据奖券种类库鉴别奖券类型, 然后参照中奖号码库的内容确定中奖信息, 最后将中奖结果交持券人。绘制奖券兑奖过程的数据流程图。5-134



43. 某单位召开运动会, 该单位有多个部门, 每个部门有多名运动员, 每名运动员可以参加多项比赛, 每个项目有多人参加。为了输出如下成绩报告单, 请写出满足条件的数据库关系模型。2-81

成绩报告单

项目编号		项目名称		性别组	
名次	运动员号	姓名	部门编号	部门名	成绩

本档资源由考试真题软件网 (down.examebook.com) 搜集整理二次制作!

自考备考三件宝: 自考笔记、真题及答案、录音课件!

1					
2					
.....					
6					

答案:

部门 (部门编号, 部门名)

运动员 (运动员号, 姓名, 性别)

项目 (项目编号, 项目名称)

成绩 (项目编号, 运动员名, 名次, 成绩)

考试课件网: <http://www.examebook.cn/>

——我们专业提供自考易考题库课件集、自考免费电子书、自考历年真题及标准答案!

考试真题软件网: <http://down.examebook.com/>

——我们专业提供自考历年真题及答案整理版、自考考前模拟试题!

考试学习软件商城: <http://www.examebook.com/>

——为您提供各种考试学习软件课件更为便利的购买通道!

自考备考三件宝: 自考笔记、真题及答案、录音课件!